














Место для шифра

Всероссийская олимпиада школьников по ОБЗР, 2025 – 2026 учебный год

Школьный этап. 11 класс

Выберите только один ответ. Выбранный вариант ответа обведите кружком. За правильный ответ начисляется **2 балла**. Исправления не допускаются!

№ п/п	Вопросы и варианты ответов	Кол-во баллов
1	Виды закаливающих процедур: а) Моржевание, обливание, купание б) Хожение босиком, посещение солярия и бани в) Водные процедуры, солнечные и воздушные ванны	
2	Возбудителем сифилиса является а) хламидия б) бледная трепонема в) гонококк г) ВИЧ инфекция	
3	Как называется данная повязка на грудную клетку а) Колосовидная повязка б) Повязка Дезо в) Повязка Вельпо	
4	Выберите Международный символ гражданской обороны: а  б  в  г 	
5	Семейный кодекс РФ вступил в силу: а) 01.03.1995 б) 01.04.1995 в) 01.03.1996	
6	В соответствии с Кодексом о браке и семье заключение брака происходит после подачи заявления в орган загса по истечении: а) 1 месяца б) 2 недель в) 2 месяцев	
7	На каком рисунке изображен противогаз ГП-5? а  б  в  г 	
8	Последствиями аварий на химически опасных предприятиях могут быть: а) резкое повышение или понижение атмосферного давления в зоне аварии; б) разрушения сооружений и конструкций в результате действий ударной волны в) заражение окружающей среды и массовое поражения людей и животных АХОВ	
9	Ядерное оружие – это: а) ОМП взрывного действия, основанное на использовании внутриядерной энергии; б) ОМП взрывного действия, основанное на использовании светового излучения в) высокоточное наступательное оружие	
10	РСЧС создана в целях: а) Прогнозирования ЧС на территории РФ и организации проведения аварийно-спасательных и других неотложных работ; б) объединения усилий органов власти, организаций и предприятий их сил и средств в области предупреждения и ликвидации ЧС; в) обеспечения первоочередного жизнеобеспечения населения пострадавшего от ЧС	

11	<p>Из предложенных вариантов выберите знак биологической Опасности</p> <p>а б в г</p> <div style="display: flex; justify-content: space-around; align-items: center;">     </div>	
12	<p>Ежегодно повторяющееся в один и тот же сезон затопление поймы реки это:</p> <p>а) половодье б) паводок в) наводнение г) затор</p>	
13	<p>Федеральный закон в России, определяющие правовые и организационные нормы в области защиты от чрезвычайных ситуаций, называется:</p> <p>а) «О безопасности» б) «О защите населения и территорий от ЧС природного и техногенного характера» в) «Об обороне»</p>	
14	<p>К видам Вооруженных Сил Российской Федерации относится:</p> <p>а) сухопутные войска, ВДВ, танковые войска, мотострелковые войска; б) сухопутные войска, Военно-Космические силы, Военно-Морской флот; в) РВСН, войска противовоздушной обороны, мотострелковые войска.</p>	
15	<p>Верховным Главнокомандующим ВС РФ является:</p> <p>а) президент б) министр обороны в) председатель правительства</p>	
16	<p>Что означает формулировка «Г»? о категории годности к военной службе.</p> <p>а) ограниченно годен к военной службе; б) годен к военной службе с незначительными ограничениями; в) временно не годен к военной службе; г) не годен к военной службе</p>	
17	<p>Какой орден в России был утвержден первым?</p> <p>а) Орден Святого Андрея Первозванного; б) Орден «За заслуги перед Отечеством» в) Орден Святого Георгия</p>	
18	<p>Система мер, направленная на уничтожение микроорганизмов, находящихся в ране либо в организме в целом:</p> <p>а) антисептика б) асептика в) промывание г) десмургия</p>	
19	<p>Как называется процесс возникновения и распространения инфекционных заболеваний среди людей?</p> <p>а) эпидемический б) инфекционный в) очаговый г) инкубационный</p>	
20	<p>Пик клещевого сезона приходится на:</p> <p>а) на конец весны, начало лета б) начало зимы, конец осени в) начало весны г) конец лета</p>	
Общее количество баллов за тур		

Теоретический тур в вопросах

Задание 1. Запишите воинские звания, соответствующие изображениям



Оценочные баллы: **максимальный** – 10 баллов; **фактический** ____ баллов

Задание 2. Запишите расположение полос на государственном флаге России, что означает цвет каждой из полос.

Цвет	
Цвет	
Цвет	

Оценочные баллы: **максимальный** – 10 баллов; **фактический** ____ баллов

Задание 3. Заполните таблицу, вписав предложенное ниже буквенное обозначение наименований орденов.

Наименование ордена:

А) Орден Святого Георгия; Б) Орден Мужества; В) Знак ордена Святого апостола Андрея Первозванного; Г) Орден Нахимова; Д) Орден Ушакова.



1



2



3



4



5

1	2	3	4	5

Оценочные баллы: **максимальный** 10 баллов; **фактический** - ____ баллов

Практический тур.

1. Укажите правильную последовательность неполной разборки АК-74, а после выполнения всех письменных заданий, выполните её.

- Отделить затвор от затворной рамы.
- Отделить шомпол.
- Вынуть пенал принадлежностей из гнезда приклада.
- Отделить магазин.
- Отделить возвратный механизм.
- Отделить крышку ствольной коробки.



- Ж) Отделить затворную раму с затвором.
 З) Отделить газовую трубку со ствольной накладкой.
 И) Проверить, нет ли патрона в патроннике,
 К) Сделать контрольный спуск.

1	2	3	4	5	6	7	8	9	10

Оценочные баллы: максимальный – 10 баллов; фактический _____ баллов

2. Запишите порядок одевания ОЗК (на не заражённой местности) в виде плаща, а после выполнения всех письменных заданий, наденьте его.



Оценочные баллы: максимальный – 10 баллов; фактический _____ баллов

3. Для определения порядка действий по оказанию первой помощи пострадавшему прежде необходимо установить его состояние. Какие патологические состояния можно заподозрить у человека, лежащего неподвижно и не реагирующего на внешние раздражители?
 Впишите в незаполненные графы таблицы: графа I – возможные состояния пострадавшего, графа II – признаки, подтверждающие данное состояние. Затем, покажите на тренажере порядок действий.

Состояние пострадавшего	Признаки, подтверждающие данное состояние
Клиническая смерть	
	1. Отсутствие сознания не более 4 минут 2. Наличие пульса на сонной (магистральной) артерии 3. Наличие дыхания
Кома	
	1. Отсутствие сознания 2. Отсутствие пульса на сонной (магистральной) артерии 3. Отсутствие дыхания 4. Высыхание роговицы (помутнение роговицы) 5. Признак «кошачьего глаза»

Оценка задания. Максимальная оценка за правильно выполненное задание – 10 баллов.